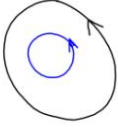
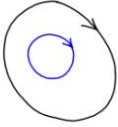
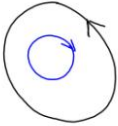



DANZA DE LOS PAÑUELOS (Laguna de Cameros)

TIEMPO	DETALLE MUSICAL	EXPLICACIÓN	IMAGEN
		Grupo de 4. Marcar el pulso.	
38"	Solista	Paso de "Jota". Paso a la derecha saltando, luego la izquierda y vuelta. *	
52"	Coro	Pies hacia delante tipo "jota", cambiando posiciones. *	

1'07"	Solista	Corro derecha	
1'15"	Coro	Corro izquierda	
1'22"	Solista	Agacharse y levantarse en cada frase.	
1'37"	Dulzaina	Cambio de posición.	
1'59"	Sinte/Puente instrumental	Se ponen en 2 filas de 4, unidos por los pañuelos. Los que están en los extremos, forman un arco con el pañuelo. *	
2'18"	Coro	Agarran los pañuelos y van de principio a final de las filas. *	
2'33"	Eco	Deshacen el último paso. Para quedarse en 2 filas.	

2'47"	Coro	Dos corros concéntricos hacia la derecha.	
2'55"	Eco	Dos corros concéntricos hacia la izquierda	
3'02"	Coro	Interior derecha, exterior izquierda.	
3'17"	Dulzaina	Opción A: Interior izquierda, exterior derecha.	
3'17"	Dulzaina	Opción B: Se ponen en una fila cogidos de los pañuelos.	

* Pasos tomados de la [danza original](#).

chiquifolk
Nuevos ritmos del
Folclore tradicional riojano



ÁREA DE LENGUA CASTELLANA Y LITERATURA

- Vocabulario: hogaño, lid, quinto, chinitas.
- Explicación del significado de la canción.
- Buscar información, preguntar en casa, etc. y realizar una redacción sobre “La fiesta de los quintos, hoy”.

ÁREA DE CONOCIMIENTO DEL MEDIO

- Buscar información y situar en un mapa de La Rioja la localidad de [Laguna de Cameros](#).
- Información sobre la historia de la fiesta de los [quintos](#): origen, de dónde proviene el nombre, dónde y cuándo se celebra, etc.

ÁREA DE EDUCACIÓN ARTÍSTICA: PLÁSTICA

- Organizar una pequeña fiesta de quintos en la clase (puesto que todos los niños han nacido el mismo año), para la cual se elaborará: un pequeño vestuario: gorros de quinto...; adornos: guirnaldas...

ÁREA DE MATEMÁTICAS

- Aprovechando el origen del nombre, se harán cálculos: si de cada cinco varones, uno iba al ejército, ¿cuántos irían de una localidad concreta de 565 habitantes, en la que la mitad eran varones?

ÁREA DE LENGUA EXTRANJERA: INGLÉS

- Vocabulario.

